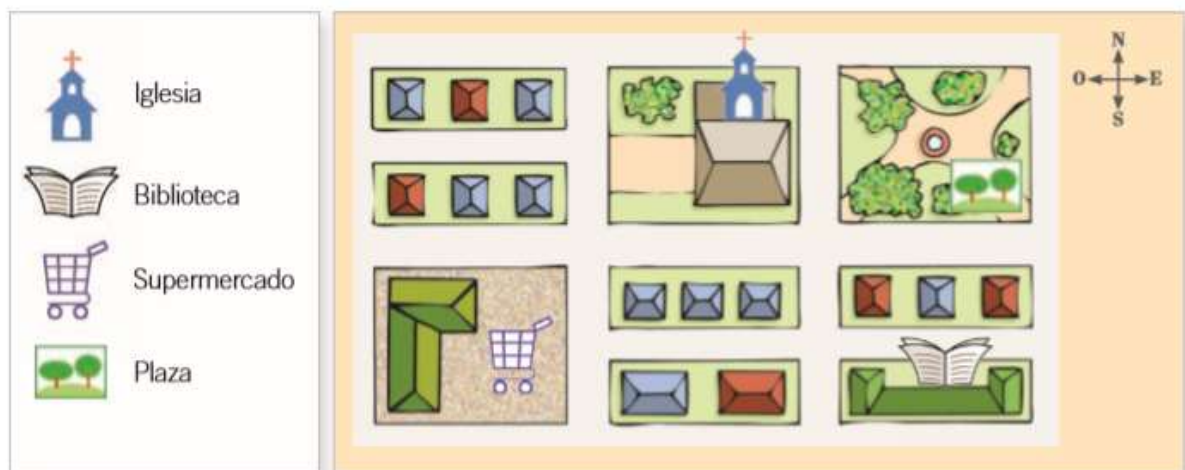


Prueba de Historia 2° Básicos
“Nos ubicamos en el espacio”

Nombre: Curso: 2° básico

Selección múltiple: Lee atentamente cada pregunta y marca con una X la alternativa que consideres correcta.

I.- Lee la simbología y observa el plano.



1.- ¿Dónde está la plaza?

- a) Al oeste de la iglesia
- b) Al norte de la biblioteca
- c) Al sur de supermercado

2.- ¿Dónde está la biblioteca?

- a) Al norte de la iglesia.
- b) Al oeste de la plaza.
- c) Al este del supermercado.

Observa la imagen y luego responde las preguntas 3, 4 y 5



3.- ¿Qué lugar está al oeste de la casa de Camila?

- a) La plaza
- b) La escuela
- c) El supermercado

4.- Si Camila se encuentra en la escuela, ¿en qué dirección tiene que caminar para llegar a su casa?

- a) Al norte
- b) Al este
- c) Al oeste

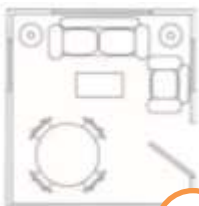
5.- ¿Cuál de los siguientes lugares se ubica al norte de la iglesia?

- a) La plaza
- b) El supermercado
- c) La cancha de fútbol

6.- ¿Cuál de las siguientes imágenes representa un plano?



A



B

Observa la siguiente imagen y luego responde las preguntas 7,8 y 9



7.- ¿A qué tipo de representación corresponde la imagen anterior?

- a) Planisferio
- b) Plano
- c) Mapa

8.- ¿Qué lugar representa la imagen observada?

- a) Un colegio
- b) Una casa
- c) Una sala de clases

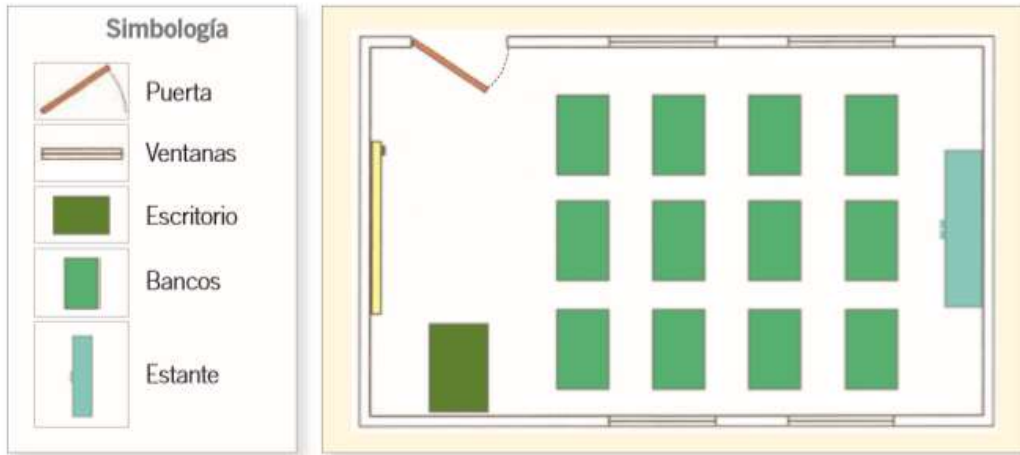
9.- Según el plano ¿Qué representa la siguiente imagen?

- a) Cama
- b) Sofá
- c) Comedor



II.- Completar

Lee el plano de la sala de clases y responde las preguntas: (4 puntos)



10.- ¿Cuántas puertas hay?

11.- ¿Cuántas ventanas hay?

12.- ¿Cuántos bancos hay?

13.- ¿Cuántos estantes hay?

14.- Observa la posición del Sol y completa el dibujo con el nombre de los Puntos Cardinales. (4 puntos)



HOJA DE RESPUESTA
EVALUACIÓN DE HISTORIA Y GEOGRAFÍA 2° BÁSICOS

Nombre del alumno: Curso: 2°

Instrucciones:

- 1.- Pinta, con el lápiz grafito, completamente el circulo de la alternativa correcta.
- 2.- Envía el archivo, una foto o un pantallazo de la hoja de respuestas al correo de la Coordinadora evaluacionljdccka2@gmail.com

1	A	B	C	D
2	A	B	C	D
3	A	B	C	D
4	A	B	C	D
5	A	B	C	D
6	A	B	C	D
7	A	B	C	D
8	A	B	C	D
9	A	B	C	D

10.- ¿Cuántas puertas hay?

11.- ¿Cuántas ventanas hay?

12.- ¿Cuántos bancos hay?

13.- ¿Cuántos estantes hay?

14.- Observa la posición del Sol y completa el dibujo con el nombre de los Puntos Cardinales. (4 puntos)

