



**CLASE DE MATEMÁTICAS 2° BÁSICOS**  
**Semana del 30 al 03 de Julio 2020**

Objetivo: Retroalimentación de contenidos.

**Instrucciones:**

Durante esta semana se realizará Retroalimentación de contenidos, por lo tanto debes registrar los siguientes ejercicios en el cuaderno.

Además te envío link de dos juegos:

Escritura de números: <https://wordwall.net/play/3103/193/230>

Representación pictórica: <https://wordwall.net/es/resource/3144360>

ESCRIBE EN EL CUADERNO:

- 1.- La fecha 01/07/2020
- 2.- El Objetivo: "Retroalimentación de contenidos"
- 3.- Escribe los siguientes ejercicios en el cuaderno:

**1.- Escribe en palabras los siguientes números:**

**25:** \_\_\_\_\_

**40:** \_\_\_\_\_

**36:** \_\_\_\_\_

**17:** \_\_\_\_\_

**2.- Ordena los números 18 – 48 – 30 – 26 de mayor a menor.**

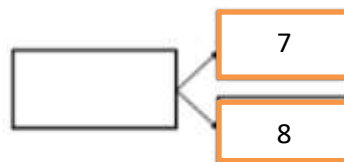
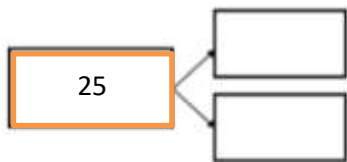
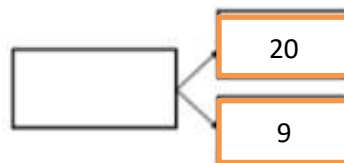
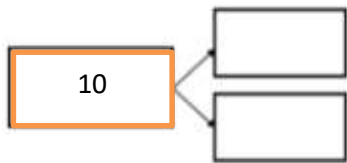
□ — □ — □ — □



Ordena de menor a mayor los siguientes números: 45 – 50 – 31 – 12 - 21

□ — □ — □ — □ — □

3.- Descompón aditivamente los números que se indican, usando el diagrama “Parte – Todo”



4.- Dibuja la cantidad de elementos que indica la frase numérica y anota el resultado.

$$10 + 8 = \square$$

$$12 - 6 = \square$$



5.- Representa de manera pictórica los siguientes números:

**Toma nota:**

- ✓ Para facilitar la representación de las decenas, te proponemos que cuando debas dibujarla lo hagas con una barra grande.
- ✓ De este modo, y por acuerdo, sabremos que representa 10 unidades o 1 decena.
- ✓ Y para las unidades, reemplazar el cubo por un cuadrado.

37

28

44

15

25

7