
 <p>RED EDUCACIONAL SANTO TOMÁS DE AQUINO DESDE 1870</p>	 <p>LICEO MIGUEL R. PRADO SANTIAGO</p>	<p>LICEO MIGUEL RAFAEL PRADO Guía N°1 Abril 2020 4°básico A-B-C</p>	<p>Matemática Profesor Manuel Villaseca</p>
---	---	---	---

Estimados estudiantes:

Dada la contingencia nacional por el COVID-19 y la suspensión de clases, es necesario que realicen en sus hogares el siguiente avance de manera de agilizar el trabajo que realicemos a la vuelta de la cuarentena. Recordar que ministerialmente se ha exigido la continuidad del ritmo de trabajo escolar.

¡LEER ATENTAMENTE!

Instrucciones generales:

- ✓ Comprendiendo la dificultad que puede ocasionar realizar esta guía de manera online, esta **actividad** deberán realizarla en **su cuaderno** y entregarla de manera presencial a la profesor/a cuando se termine el período de suspensión de clases, para ser **evaluado/ponderado/etc...**
- ✓ Ante las dudas que este trabajo pueda generar, se utilizará el siguiente sistema para responderlas:
 - Horario de resolución de dudas vía e-mail: lunes a jueves de 9:00 a 17:00 horas. viernes: de 9:00 a 13:00 horas.
 - Directamente al correo electrónico: **mvillaseca@secst.cl**
 - Si usted no cuenta con acceso a internet, favor filtrar consultas a través de los delegados académicos correspondientes (apoderados)
- ✓ Esta actividad de avance es **INDIVIDUAL** por lo tanto evite copias y plagios, desde internet u compañero.
- ✓ Lea atentamente cada parte de esta guía de trabajo y responda de manera completa y argumentada.
- ✓ Los enunciados la guía se escribe con lápiz pasta y su desarrollo se realiza a lápiz mina, si es que es el caso.
- ✓ No olvide escribir el **DESARROLLO** de las preguntas/ejercicio que así lo requieran. En caso de no desarrollarlo y solo escribir el resultado del ejercicio/pregunta/etc. no se considerará en el puntaje total de la guía.
- ✓ En el siguiente link, encontrará cada uno de los textos entregados por el MINEDUC <https://curriculumnacional.mineduc.cl/estudiante/621/w3-propertyname-822.html>
- ✓ Si decides trabajar las páginas en el mismo texto que se te fue entregado en el colegio, entonces debes cuidarlo, y entregarlo a tu profesor(a) una vez que hayamos retomado las clases presenciales.




**RECUERDE NO SALIR Y LÁVESE LAS MANOS CONSTANTEMENTE MÍNIMO DURANTE 30 SEGUNDOS.
EL AUTO CUIDADO ES PRIMORDIAL.**

Se despide


Profesor Manuel Villaseca.

Objetivo de Aprendizaje: En esta clase aprenderemos a leer y escribir números hasta 10 000.	Contenido: Lectura y escritura de números.
---	--

Instrucciones:
 Cada ítem, indica las instrucciones que debes seguir. De acuerdo a la simbología, desarrolla esta guía.





-  Lectura, de la guía.
-  Revisa tu texto del estudiante o Cuaderno de ejercicios (textos ministeriales)
-  Escribe en tu cuaderno.





Desarrollo

 Vamos a la **página 22** de tu libro y observamos la siguiente situación:



 Recuerda que:

Número	Representación	Se lee:
200		Doscientos
300		Trescientos
400		Cuatrocientos
500		Quinientos

Número	Representación	Se lee:
600		Seiscientos
700		Setecientos
800		Ochocientos
900		Novecientos



Escribe con palabras el precio de los siguientes productos.



Seiscientos noventa pesos



Tu amiga Josefina te llama por el celular pidiéndote un favor. Anota en cifras los precios



Si una manzana cuesta menos de **trescientos cincuenta pesos**, por favor cómprame una. Te devolveré el monto.

Precio en cifras



Ayer compré galletas a **doscientos veinte pesos** cada una. Si cuesta menos por favor cómprame una. Te devolveré el monto.

Precio en cifras

Copia esta tabla en tu cuaderno y complétala.

Número en cifras	Número en palabras
452	
	Setecientos cuarenta y cinco
	Mil ochocientos quinientos y siete
2 504	
9 050	
	Ciento noventa y nueve
3 001	
	Cinco mil cuatro
	Cinco mil cuarenta
	Cinco mil cuatrocientos
4 500	
4 050	
4 005	

		LICEO MIGUEL RAFAEL PRADO Guía N°1 Abril 2020 4°básico A-B-C	Matemática Profesor Manuel Villaseca
---	---	---	---

Cierre

Para jugar con un familiar en tu casa o con tu compañera o compañero de curso:
 Se confeccionan cuatro fichas iguales de cartón. Se escribe una cifra en cada una, por ejemplo:



Después se ponen las fichas "cara abajo"; se las mezcla bien y se las pone en una fila como se ve en la imagen de abajo.



Se da vuelta a las fichas:

- Si estás solo, debes dar vuelta a las fichas y leer en voz alta el número que aparece. Mezcla las fichas de nuevo y repite todo.
- Si están dos, uno de ustedes mezcla las fichas, se las reordena y les da vuelta. El otro jugador debe leer de inmediato el número que aparece. Se cambian los roles de los jugadores y se repite todo.
- Si están tres o más, uno de ustedes mezcla las fichas, se las reordena y les da vuelta. Los otros jugadores tratan de leer el número que aparece. El primero que lo logró sin error puede tomar el rol del jugador que mezcla las fichas las reordena y les da vuelta.

Anexos de youtube.

<https://www.youtube.com/watch?v=iq1I2ixk48I>

<https://www.youtube.com/watch?v=O534w1ZeykQ>