



**MATEMÁTICAS 2° BÁSICOS**  
Semana del 28 de Septiembre al 2 de Octubre

**OA 15: Describir, comparar y construir figuras 2D (triángulos, cuadrados, rectángulos y círculos) con material concreto.**

**Clase 7: Identifico y comparo figuras 2D**

**Clase 8: Describo y construyo figuras 2D**

**Instrucciones:**

- 1.- Observar el power point de la presentación de la clase.
- 2.- Completar las actividades de la clase 7: página 30, 31, 32 y 33.
- 3.- De acuerdo a las instrucciones de la clase 8: páginas 34, 35 y 36 Construye figuras 2D. Para esto debes contar con 3 papeles lustre, color a elección.

Desafío:

Con papel lustre (color a elección), realiza la actividad de la página 37 y envía fotografía de la actividad ([peperez@secst.cl](mailto:peperez@secst.cl))

**Figuras 2D**

**Recuerda que...**

- Las figuras 2D reciben este nombre porque tienen **2 dimensiones: ancho y largo.**
- También se conocen como figuras geométricas planas.
- Se pueden dibujar con líneas rectas o curvas.
- Con líneas rectas se obtiene:

<b>Triángulo</b> 	<b>Cuadrado</b> 	<b>Rectángulo</b> 
----------------------	---------------------	-----------------------

- Con líneas curvas se obtiene:

<b>Círculo</b> 
--------------------



Clase 7



**Identifico y comparo figuras 2D**

**Actividad 1:**

Encierra según se indica.

a) Palabra que tenga sólo letras con líneas rectas:

<b>PALOMA</b>	<b>RAMA</b>	<b>LIMA</b>
---------------	-------------	-------------

b) Palabra que tenga sólo letras con líneas curvas:

<b>SOPA</b>	<b>OSOS</b>	<b>LUPA</b>
-------------	-------------	-------------

c) Palabra que tenga letras con líneas rectas y líneas curvas

<b>LANA</b>	<b>ISLA</b>	<b>COSO</b>
-------------	-------------	-------------

d) Número sólo con líneas rectas:

<b>68</b>	<b>44</b>	<b>37</b>
-----------	-----------	-----------





e) Forma hecha sólo con líneas curvas:

--	--	--




**Actividad 2:**

❖ Remarca las líneas de estas figuras 2D, recuerda usar regla para las líneas rectas. Luego marca con ✓ la presencia de líneas rectas y curvas en cada una.

Figura 2D	Línea curva	Línea recta
		
		
		
		

❖ Marca de color verde y con una regla las líneas rectas de las siguientes figuras 2D.














c) Obtén cuatro cuadrados con un papel lustre y pégalos:



### Figuras 2D

**Recuerda que...**

- Las figuras 2D reciben este nombre porque tienen **2 dimensiones: ancho y largo.**
- También se conocen como figuras geométricas planas.
- Se pueden dibujar con líneas rectas o curvas.
- Con líneas rectas se obtiene:



- Con líneas curvas se obtiene:



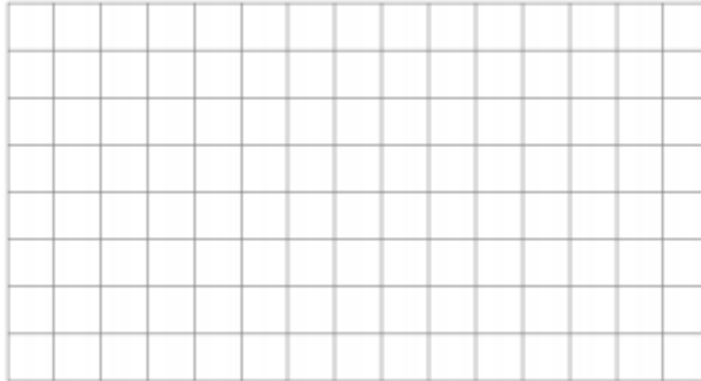




**Actividad 2:**

Usa el Tangrama para construir lo que se pide. Cuando estés seguro(a) de tu respuesta, realiza el dibujo de lo hecho.

Forma un cuadrado utilizando triángulos.



Forma un rectángulo utilizando triángulos.

