

# Cómo ubicarnos en el espacio



Equipo Segundos  
Básicos



## Instrucciones Generales

- ✓ **NO IMPRIMAS** este material
- ✓ Si estás en un computador, presiona F5 en el teclado para ver las animaciones.
- ✓ Si estas en un celular, ponlo de manera horizontal.

PARA LOS  
PADRES



A continuación verán el contenido que nos corresponde en la unidad uno.



La idea es que escriban en su cuaderno de Historia y en el texto de la asignatura cuando corresponda



Todo estará muy bien explicado para que no existan confusiones.



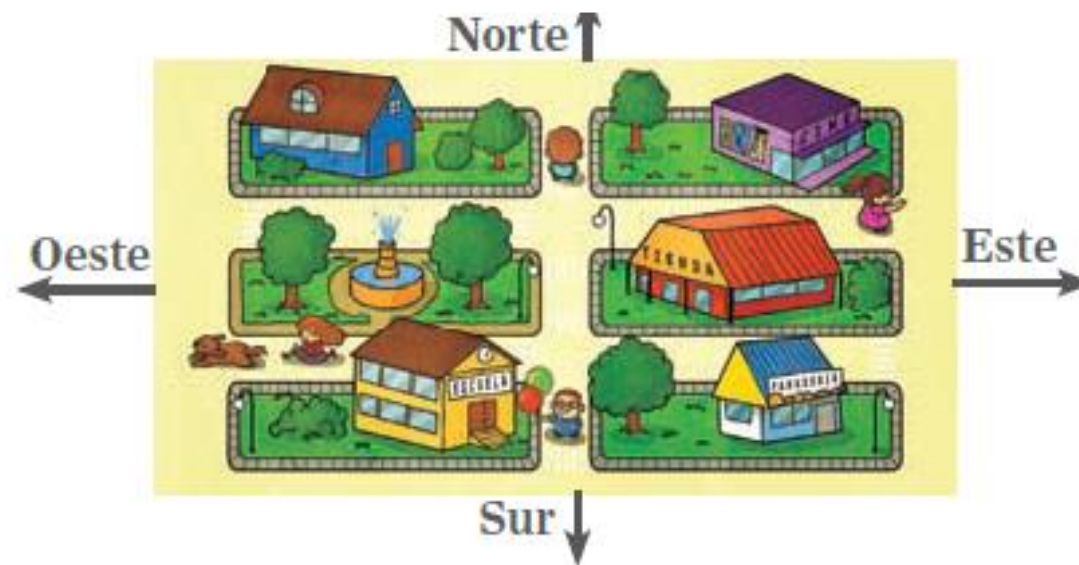
Tomen todo el tiempo que necesiten para realizar la actividad.



Sigan las instrucciones.

# En las clases anteriores

- ▶ Conocimos los puntos cardinales

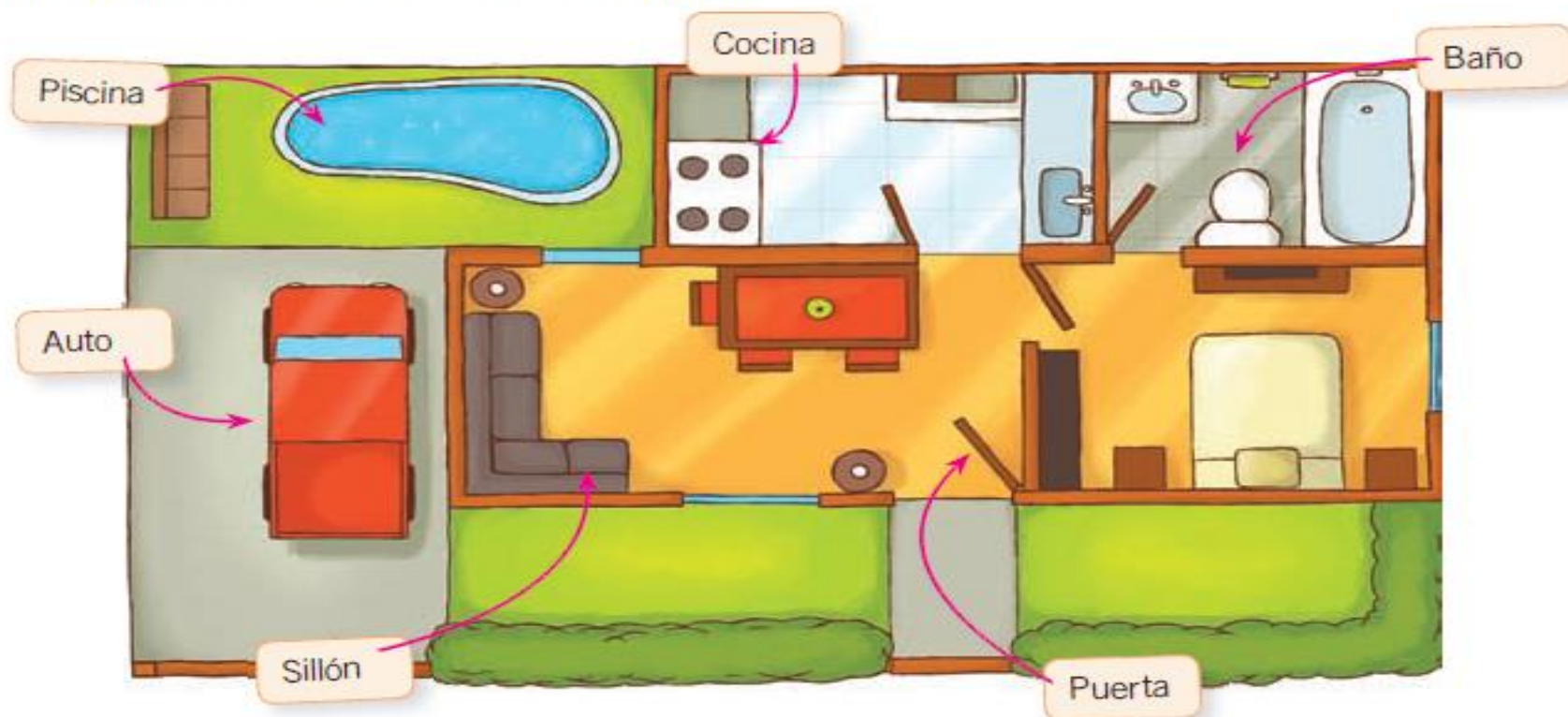


Observa y  
recuerda

## ► Conocimos los planos

### Lee y comenta

A veces necesitamos ubicarnos en espacios muy amplios que son difíciles de visualizar en su totalidad. En estos casos, usamos los **planos**, que son representaciones del espacio real. Los planos sirven para dibujar distintos lugares: una pieza, un edificio, un colegio, un barrio e incluso una ciudad.



Lee en voz alta  
y recuerda



En la clase de hoy  
vamos a utilizar  
los puntos  
cardinales en el  
plano

Observa la Imagen

Responde en  
tu cuaderno  
las siguientes  
preguntas



1.- ¿ A qué lugares que conoces corresponde el plano de la imagen anterior?



2.- ¿ Qué es la simbología?



3.- según la simbología de la imagen ¿cuántas puertas hay?



4.-¿ Cuantas ventanas ves?



5.-¿ Cuántos estantes existen?



6.-¿Cuántos bancos observas?

# En referencia a los puntos cardinales responde en tu cuaderno



- ▶ 1.- ¿Qué Calle queda al sur de los jazmines?
- ▶ 2.- ¿Cuántas iglesias hay?
- ▶ Ayúdate de la rosa de los vientos que aparece en la imagen

# Explicación de la actividad del libro

Observa el plano en tu libro de historia en la página 20 y responde en tu cuaderno la actividad número uno de la página 21.

**La pregunta en el libro dice:**

José el niño del plano debe llegar a la clínica ¿qué camino debe recorrer?

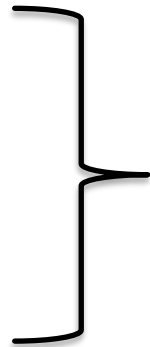
**Y abajo responde como debe llegar:**

José el niño del plano debe caminar **dos cuadras al este** hasta la calle Los Naranjos y luego doblar al sur hasta la calle el Ombú

Y después te plantea el siguiente desafío:

¿ Qué camino debiese recorrer José si tuviera que llegar a:

- ▶ El correo
- ▶ Almacén de don Tito
- ▶ Los bomberos
- ▶ La Piscina olímpica
- ▶ Supermercado
- ▶ Los departamentos



Debes escribir cómo llegar a esos lugares con la ayuda del plano, tal cuál como se presentó en el ejemplo más arriba.





Este es el mismo plano que aparece en el libro, por eso puedes ayudarte de él para ver el recorrido que debes trazar