



**CLASE DE MATEMÁTICAS 2° BÁSICOS**  
**Semana del 24 al 28 de Agosto 2020**

**OA14:** Representar y describir la posición de objetos y personas con relación a sí mismos y a otros objetos y personas, incluyendo derecha e izquierda y usando material concreto y dibujos.

Esta semana iniciaremos el trabajo de la Unidad paralela correspondiente a Geometría I.

Materiales para la clase:

- Libro de Geometría 1
- Lápiz gráfico, goma y lápices de colores



Para trabajar “Lateralidad” se requiere que los alumnos tengan un distintivo como una cinta amarrada en la mano derecha o izquierda que les permita indicar su propia lateralidad. No es necesario distinguir ambas, puesto que al hallar una pueden determinar lo demás. Considere dejar el distintivo por un tiempo hasta que se evidencie la apropiación.

**Recuerda que...**

- ❖ Para describir la posición de personas, animales u objetos en relación a sí mismos o a otros, se utilizan conceptos como:

**Derecha - Izquierda**

**Adentro - Afuera**

**Arriba - Abajo**

**Sobre - Debajo**

**Adelante - Atrás**

**Delante - Detrás**

**Entre**





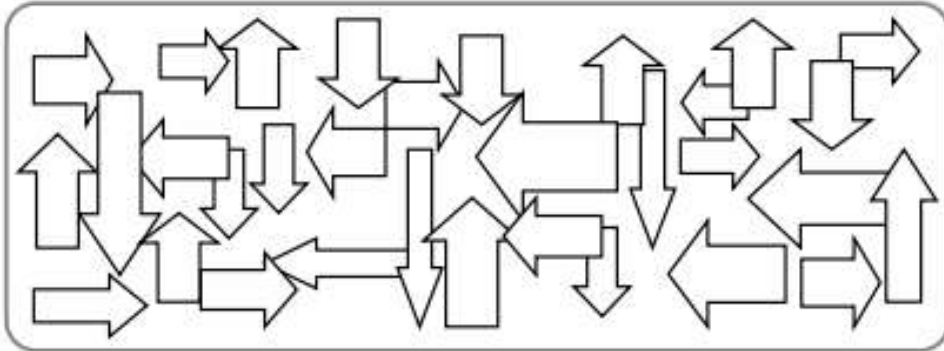
## Clase 0

### Actividad 1

❖ Pinta las flechas según la orientación que muestran:

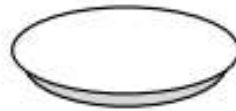
↙ Izquierda: color rojo  
↖ Arriba: color amarillo

↘ Derecha: color azul  
↗ Abajo: color verde



❖ Dibuja las galletas según se indica:

✓ 5 galletas adentro del plato y 4 galletas afuera:




✓ Un jinete sentado arriba del caballo y dos manzanas debajo para que el caballo se pueda agachar a comerlas





**Actividad 2:**

Mira alrededor, identifica lo que ves a tu derecha y a tu izquierda. Dibuja el objeto o la persona que se encuentre en cada lado.



**Actividad 3 :**

Observa la imagen y según las posiciones de cada personaje, completa las oraciones usando los siguientes conceptos: **arriba**, **debajo**, **izquierda**, **derecha**.



- El sol se ve \_\_\_\_\_ de las montañas.
- El niño está a la \_\_\_\_\_ de la mamá.
- Los platos están \_\_\_\_\_ de las tazas.
- El niño levanta su mano \_\_\_\_\_.



**Actividad 4:**  
Observa la imagen.



Lee cada enunciado y pinta el casillero "V" si es verdadero o el casillero "F" si es falso":

- a) El lazo del cabello de  lo tiene a su lado izquierdo. 

V	F
---	---
  
- b)  está detrás de una silla. 

V	F
---	---
  
- c) A la derecha de  se encuentra . 

V	F
---	---
  
- d)  escribe con su mano izquierda. 

V	F
---	---

