



Fecha: __/__/__

Clase 1
Leo números hasta el 10

Actividad 1:

Anota el número que se encuentra antes y después.

a.

b.

c.

d.

Actividad 2:

Completa las secuencias de 1 en 1 en forma descendente.

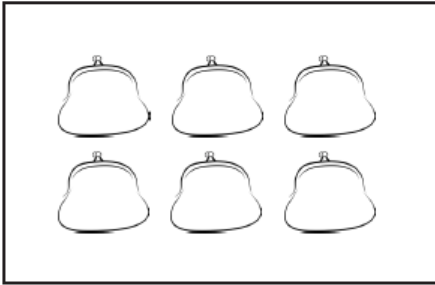
a.

b.

Actividad 3:


Pinta el número que indica la cantidad de elementos.

a.




5	6	7	8	9	10
---	---	---	---	---	----

b.




5	6	7	8	9	10
---	---	---	---	---	----

c.



5	6	7	8	9	10
---	---	---	---	---	----

d.



5	6	7	8	9	10
---	---	---	---	---	----

Actividad 4:

Dibuja en la torta, tantas velas como indica el número.





Actividad 5:

Representa con rayas, círculos u otros, la cantidad que indica cada número.

6

10


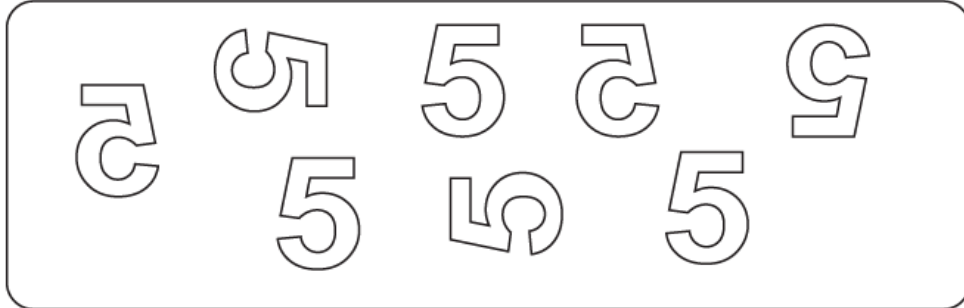
7

9



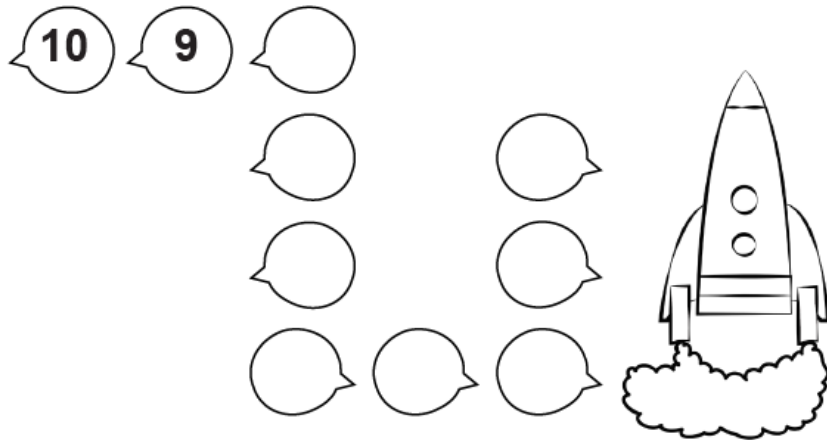
Actividad 6:

Pinta los números 5 y luego 6 que se encuentren en la posición correcta.



¡DESAFÍO!

Renata está contando en forma descendente el lanzamiento de un cohete. Ayúdala a completar su conteo.



Ahora, cuenta a coro junto a tus compañeros, el conteo descendente de Renata.