

FICHAS

MATEMÁTICAS

IV^o A - B



**RESOLVER
PROBLEMAS**



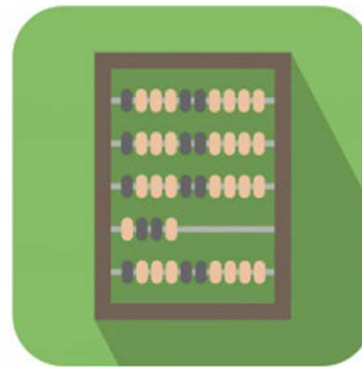
REPRESENTAR



ARGUMENTAR



MODELAR



**El número
0 es...**

A Par

B Impar

RESUELVE...

$$\log_{\frac{1}{2}} \sqrt{2} =$$

A


$$-\frac{1}{2}$$

B

$$2$$

C

$$-\sqrt{\frac{1}{2}}$$



**Irracional por un
Irracional da
SIEMPRE un...**

(A) Racional

(B) Irracional

(C) Depende



**SI ANA TIENE EN LA
ACTUALIDAD
(2-3 AÑOS), ¿ QUÉ
EDAD TENDRÁ EN 4
AÑOS MÁS?**

A

(2a + 1) años

B


(2a - 7) años

C

(6a + 1) años

D

(8a - 12) años



**Irracional por un
Irracional da
SIEMPRE un...**

(A) Racional

(B) Irracional

(C) Depende



$$3+3-3+3=?$$

(A) 21

(B) 15

(C) 36



**¿El número 1
es racional?**

A Sii!

B No!

