


BIENVENIDOS NIÑOS A UNA NUEVA CLASE DE MATEMÁTICA:

**Les presento a PUPI
Quién nos ayudará a
resolver problemas
matemáticos**



LA META PARA ESTA SEMANA

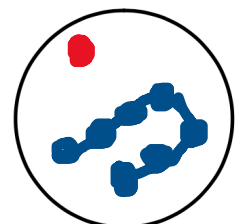
- 
- Resolver problemas simples de adición y sustracción
 - Realizar conteo hasta el 30 en la recta numérica.
 - Descomponer N^o9 Y 10

REVISEMOS LA TAREA DE LA CLASE ANTERIOR

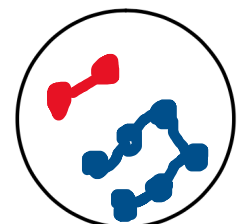
Descomponer el N° 8




8



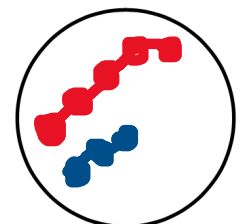
$$1+7$$



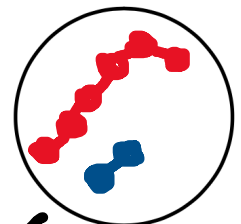
$$2+6$$




$$4+4$$



$$5+3$$



$$6+2$$



$$7+1$$

**AHORA PUPI LOS INVITA A CONTAR
DE UNO EN UNO HASTA EL 30**

Comencemos!!



PUPI NOS ENSEÑA:

Resolución de problemas simples

Ámbito: Interacción y Comprensión del Entorno.


Núcleo: Pensamiento Matemático.

Objetivo de aprendizaje:


Resolver progresivamente problemas simples, de manera concreta y pictórica, agregando o quitando hasta 5 elementos.



Signos matemáticos.



Suma
Agregar
Dar
Añadir
Adición



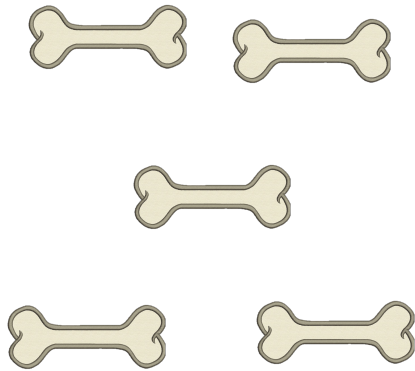
Resta
Quitar
Eliminar
Sustracción

Actividad: Resuelve los siguientes problemas simples matemáticos.

Pupi tenía 5 huesos guardados al interior de su casa, pero se comió 4 huesos.

¿ Cuántos huesos le quedaron en total?

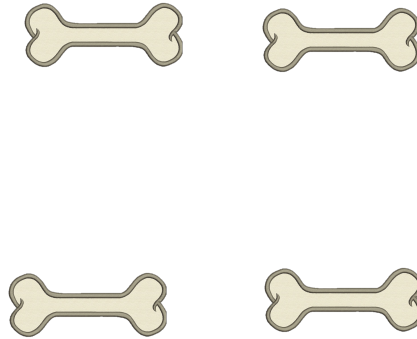




5



-




4

=



1






Actividad: Resuelve los siguientes problemas simples matemáticos.

Pupi, tenía 4 flores, pero regaló 2 de ellos.

¿ Cuántas flores le quedaron en total?





4



2



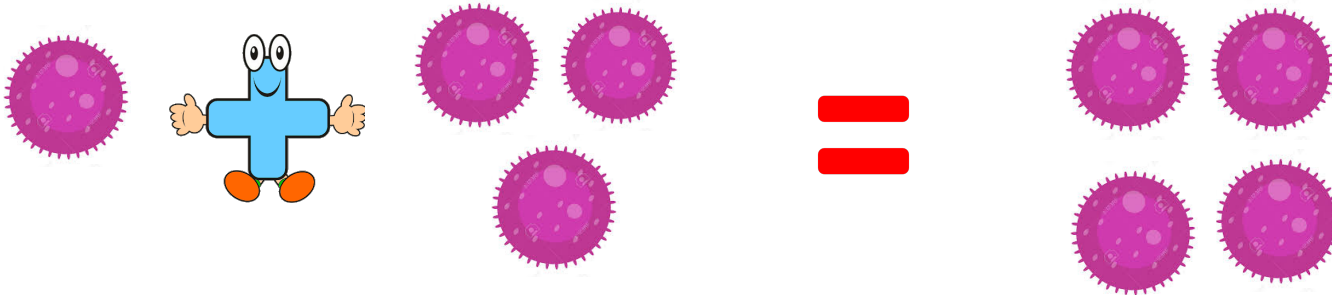
2



Actividad: Resuelve los siguientes problemas simples matemáticos.

Pupi es un perro muy regalón. Él tenía 1 juguete y sus amos le regalaron 3 más
¿ Cuántos juguetes tiene en total?






$$\underline{1} + \underline{3} = \underline{4}$$






Actividad: Resuelve los siguientes problemas simples matemáticos.

En la mesa habían 3 pasteles y Pupi se comió 2 de ellos.

¿ Cuántos pasteles quedaron en total?





3

-

2

=




1



Pupi tiene un collar, pero su amo le regaló 4 más.

¿ Cuántos collares tiene en total?





1



4







5



El amo de Pupi lo bañó. Pupi tenía 5 pulgas, pero 2 pulgas se murieron.

¿ Cuántas pulgas le quedaron a Pupi en total?





5



2



3



En el cumpleaños de Pupi habían 4
perritos en total, pero 2 se fueron.

¿ Cuántos perritos quedaron en total?





4



2



2

Pupi tenía 3 casas, pero su dueña decidió regalar 2.

¿ Cuántos casitas le quedaron a Pupi?





3



2



1



En el cumpleaños de Pupi habían 5 globos,
pero se reventaron 4.

¿ Cuántos GLOBOS quedaron en total?





5



4









1



Trabajemos descomponiendo el N° 9



9

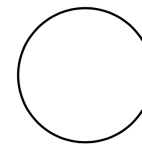
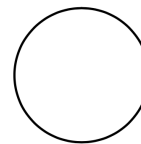
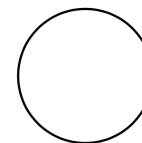
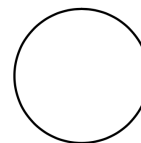
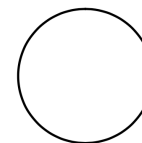
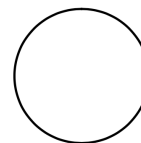


TAREA

Descomponer el N° 10



10



Asterrea Capacitaciones Programa Matemática Kinder, 2008

Recuerda enviar tu trabajo del número 10 al classroom a la tarea que asignaria tu Educadora.

NOS VEMOS EN LA PRÓXIMA CLASE



LO HICISTE GENIAL!!