

Actividades

1

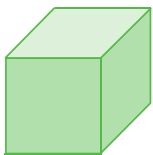

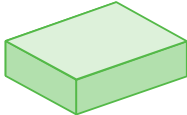
Cada secuencia tiene una regularidad numérica. Descúbrela, calcula mentalmente y completa:

467	477	487			517			
-----	-----	-----	--	--	-----	--	--	--

512	515	518				530		
-----	-----	-----	--	--	--	-----	--	--

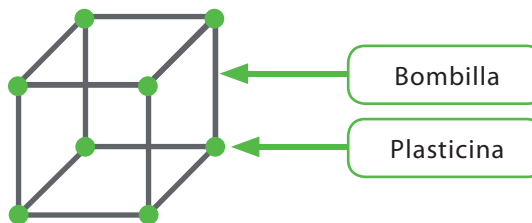
2

Nombra objetos que conozcas, que tengan la forma de:

Cubo		
Prisma recto de base triangular		
Prisma recto de base rectangular		

3

Construye el esqueleto de un cubo como el de la figura, con trozos de bombillas unidos con plasticina.



• ¿Cuántos trozos de bombillas usaste?

• ¿Cuántas pelotitas de plasticina usaste para hacer las uniones?

4

Construye el esqueleto de un prisma recto de base rectangular, con trozos de bombillas unidos con plasticina.

- ¿Cuántos trozos de bombillas usaste?

- ¿Cuántas pelotitas de plasticina usaste para hacer las uniones?

5

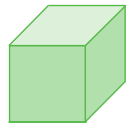

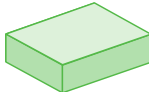
Construye el esqueleto de un prisma recto de base triangular, con trozos de bombillas unidos con plasticina.

- ¿Cuántos trozos de bombillas usaste?

- ¿Cuántas pelotitas de plasticina usaste para hacer las uniones?

6

Completa:

Cuerpo	Cantidad de vértices	Cantidad de aristas	Cantidad de caras
			
			
			

7

Adivinanza.

Soy un cuerpo geométrico que tengo 6 vértices,
9 aristas y mis caras son planas.
¿Qué forma tengo?